


بازا عالم عربي

عربية

التمرين 1 :

أَكْتُبُ النَّصَّ التَّالِيَّ مَضْبُوطًا بِالشَّكْلِ

غَابَتْ وَقَاءٌ عَنِ الْمَدْرَسَةِ، فَسَأَلَتِ الْمُعَلِّمَةَ عَنْهَا ، فَعَلِمَتْ أَنَّهَا مَرِيضَةٌ فِي الْمَنْزِلِ
الْمُعَلِّمَةُ : سَأَزُورُ وَقَاءً - إِنْ شَاءَ اللَّهُ - هَذَا الْمَسَاءَ، فَمَنْ مِنْكُمْ تَسْتَطِيعُ مُرَافَقَتِي ؟



1- لِمَاذَا غَابَتْ وَقَاءٌ؟

.....

2- مَا الَّذِي اقْتَرَحَتْهُ الْمُعَلِّمَةُ؟

.....

التمرين 2:

أرْتَبُ الكَلِمَاتِ التَّالِيَةَ لِأَكُونَ جُمْلَةً مُفِيدَةً:

مَلْعَبٍ - خَرَجَ - إِلَى - الْحَيِّ - أَيَمَنُ

الْجَمِيعُ - إِلَّا - حَازِمًا - تَحَدَّثَ

التمرين 3:

1- أرْتَبُ أَحْدَاثَ الْقِصَّةِ بِاخْتِيَارِ الْجُمْلِ الْمُنَاسِبَةِ ثُمَّ أَكْتُبُهَا.

* دَفَعَ خَالِدٌ صَدِيقَهُ عُمَرَ مِنَ السُّلْمِ.

* سَقَطَ عُمَرُ عَلَى الْأَرْضِ.

* قَدَّمَ خَالِدٌ اعْتِذَارَهُ لِعُمَرَ، وَطَلَبَ مِنْهُ أَنْ يُسَامِحَهُ.

* رَأَى الْمُعَلِّمُ مَا حَدَّثَ فَطَلَبَ مِنْ خَالِدٍ أَنْ يَعْتَذِرَ.

2- أَسْتَخْرِجُ مِنَ الْأَحْدَاثِ كَلِمَةً فِيهَا لَامٌ شَمْسِيَّةٌ وَأُخْرَى فِيهَا لِضَامٌ قَمْرِيَّةٌ

شَمْسِيَّةٌ:

قَمْرِيَّةٌ:

التمرين 4:

أُنْتِجُ نَصَّ سَرْدِيًّا مُسْتَعِينًا بِالصُّوَرِ

.....
.....
.....
.....
.....
.....
.....
.....
.....
.....
.....
.....
.....
.....
.....
.....
.....
.....



أحوّل العمليات التالية الى الوضع العمودي:

$$. = 60 + 89$$

$$. = 116 + 72$$

$$. = 33 + 126$$

أنجز العمليات التالية:

$$. = 117 + 65$$

$$. = 94 + 65$$

$$. = 50 + 119$$

تملك مهي 45 مي أمّا أخوها مهدي فيملك مبلغا يفوقها ب96 مي .
التعليمة : كم يملك مهدي ؟

.....
- جمع فريق مراد 115 كجة أمّا فريق حمدي فقد جمع عددا من الكجات يقل عمّا جمعه فريق مراد ب 15 كجة.
التعليمة : كم جمع فريق حمدي ؟

.....
- خرجت رانية الى الحقل فجمعت 66 زهرة أمّا أختها رانية فجمعت عددا من الزهور أقل مما جمعته رانية ب 12 زهرة.
التعليمة : كم جمعت رانية من زهرة ؟

أرتب ترتيبا تصاعديًا :

. 91 – 186 – 35 – 125

أرتب ترتيبا تنازليًا :

.155 – 122 – 41 – 192

الحساب الذهني :

. + 100 = 164	. = 66 ضعف
. + 20 = 122	. = 170 نصف
. + . + . = 163	. = 48 ضعف

- أنجز العمليّات التالية

$\begin{array}{r} 242 \\ + 35 \\ \hline = \end{array}$	$\begin{array}{r} 187 \\ + 311 \\ \hline = \end{array}$	$\begin{array}{r} 226 \\ + 243 \\ \hline = \end{array}$
$\begin{array}{r} 342 \\ - 110 \\ \hline = \end{array}$	$\begin{array}{r} 378 \\ - 11 \\ \hline = \end{array}$	$\begin{array}{r} 446 \\ - 243 \\ \hline = \end{array}$

أقارن بين خواص المادتين الصلبتين باستخدام الكلمات المناسبة لقراءة الصور

<input type="radio"/> قابل للتشكيل <input type="radio"/> متماسك	<input type="radio"/> ناعم <input type="radio"/> خشن	<input type="radio"/> لين <input type="radio"/> قاسي	 صلصال
<input type="radio"/> قابل للتشكيل <input type="radio"/> متماسك	<input type="radio"/> ناعم <input type="radio"/> خشن	<input type="radio"/> لين <input type="radio"/> قاسي	 حجر

❖ أكتب اسم كل فصل تحت الصور المناسبة :

الصيف - الشتاء - الربيع - الخريف



فصل



فصل

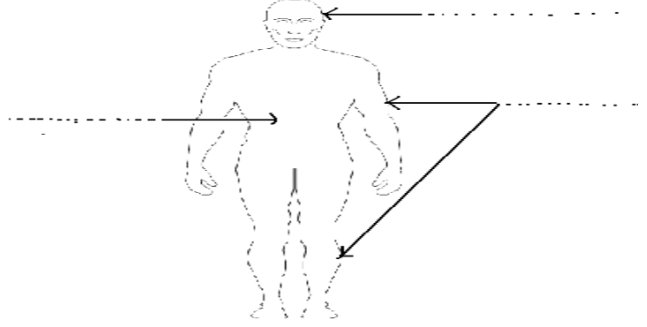


فصل


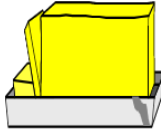






فصل

أكتب أسماء أجزاء جسم الإنسان :



أصنّف في الجدول:

أغذية نباتية	أغذية حيوانية			
.....	حليب	زبدة	خبز
.....			
.....	عسل	ياغرت	تمر